





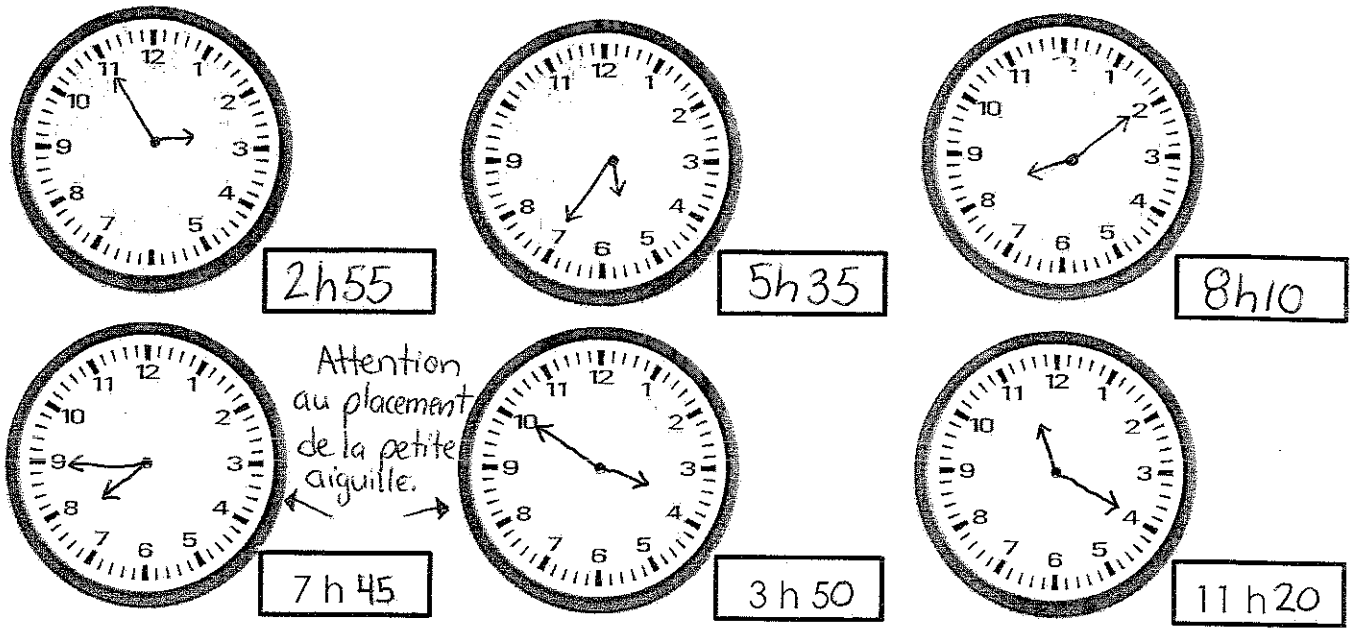


1. Écris la valeur de chaque somme d'argent.

<p><u>1\$ et 50¢</u></p> 	<p><u>4\$ et 40¢</u></p> 	<p><u>3\$ et 35¢</u></p> 
<p><u>3\$ et 38¢</u></p> 	<p><u>8\$ et 27¢</u></p> 	<p><u>9\$ et 28¢</u></p> 

2. Écris l'heure et représente l'heure à la minute près.



2h55

5h35

8h10

7h45

3h50

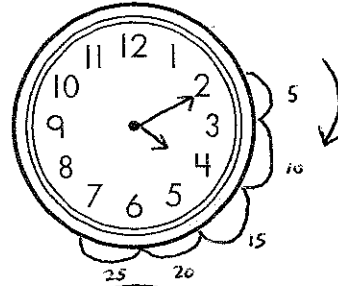
11h20

Attention au placement de la petite aiguille.


Utilise une horloge pour t'aider.

Trace les aiguilles sur chaque horloge pour répondre à chaque question.
Écris l'heure.


1. Keung a appelé son ami à 4:10.
Ils ont bavardé pendant 25 minutes.
À quelle heure a-t-il raccroché? 4h35



2. Il est 7:45.
Le bébé a dormi pendant 35 minutes.
À quelle heure s'est-il endormi? 7h10




3. Bert a commencé son devoir à 3:45.
Il a travaillé pendant 1 heure et 30 minutes.
À quelle heure a-t-il fini? 5h15




$$3h45 + 1h = 4h45$$

$$4h45 + 30mins = 5h15$$

4. Mary a fait sortir son chien à 8:05.
Il est resté dehors pendant 30 minutes.
À quelle heure le chien est-il rentré? 8h35



5. Rosa a commencé à regarder un vidéo à 1:10.
Le vidéo a duré 1 heure et 30 minutes.
À quelle heure a-t-il fini? 2h40



$$1h10 + 1h = 2h10$$

$$2h10 + 30mins = 2h40$$

6. Il est 8:00.
Mario écoute son CD depuis 40 minutes.
À quelle heure a-t-il commencé? 7h20

