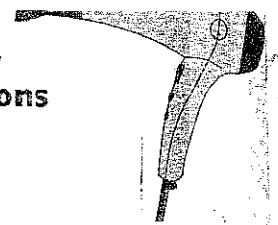
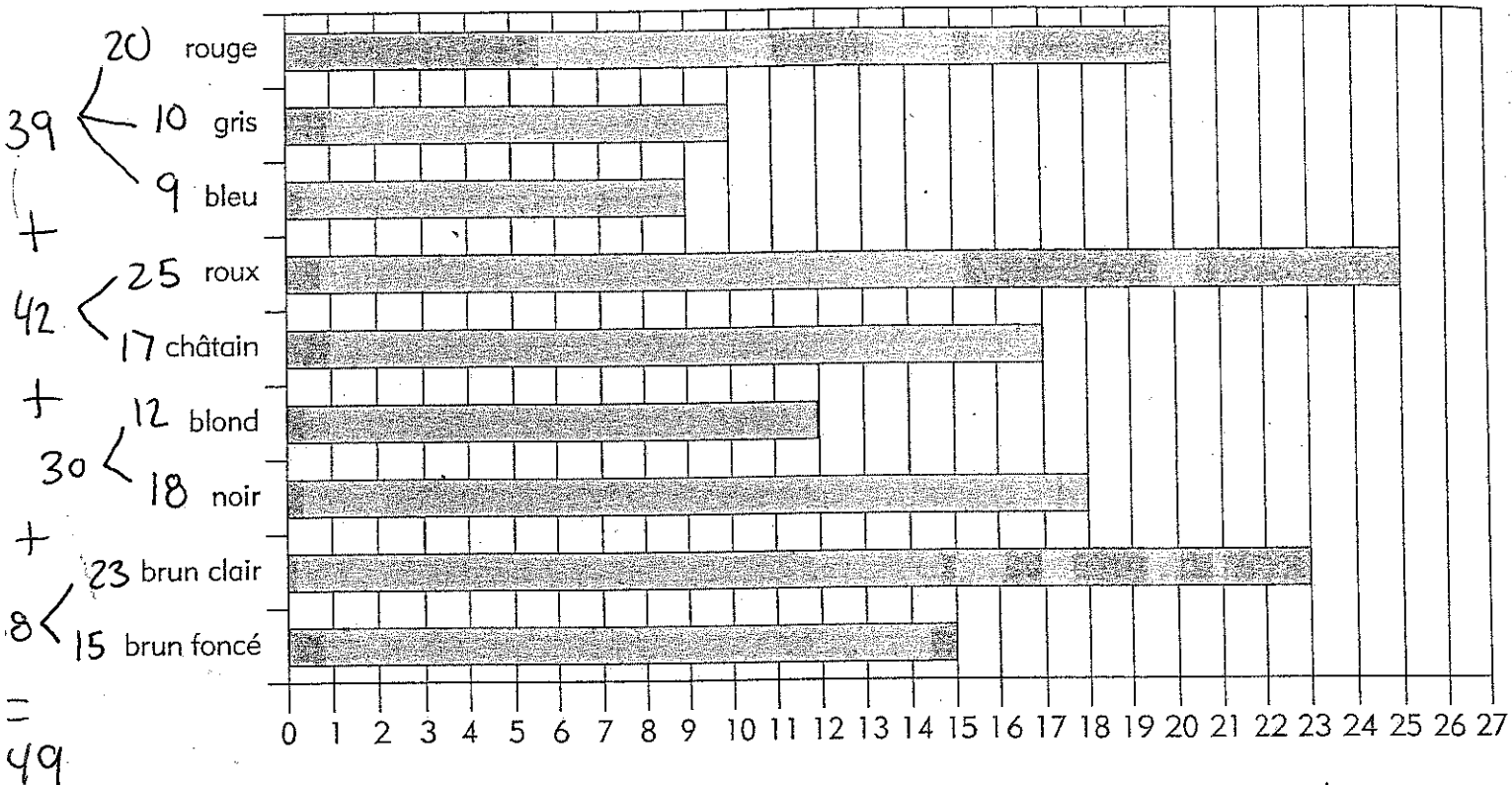


Un coiffeur teint les cheveux de ses clientes dans des teintes naturelles, mais aussi extravagantes. Observe le diagramme à bandes des colorations réalisées le mois dernier, puis réponds aux questions.



CORRIGÉ

■ Nombre de clientes





- a) Combien de clientes se sont fait teindre les cheveux châtain? 17
- b) Combien de clientes se sont fait teindre les cheveux bruns? 15 + 23 = 38
- c) Classe les teintures dans l'ordre décroissant selon le nombre de clientes.

Roux, brun clair, rouge, noir, châtain, brun foncé, blond, gris, bleu

- d) Après un an, combien de clientes de plus ont les cheveux rouges comparativement à celles qui ont les cheveux blonds? 20 - 12 = 8 de plus
- e) Après un an, combien de clientes de moins ont les cheveux gris comparativement à celles qui ont les cheveux noirs? 18 - 10 = 8 de moins
- f) Combien de clientes se sont fait colorer les cheveux dans ce mois? 149
(39 + 42 + 30 + 38 = 149)
- a) Combien de clientes de plus ont les cheveux roux ou blonds 25 - 12 = 13 de plus

Observe le diagramme à bandes, puis réponds aux questions qui suivent.

Les collections de timbres



a) Quel enfant a le plus de timbres dans sa collection ?

Caro

b) Quel enfant a le moins de timbres dans sa collection ?

Luc

c) Combien de timbres possède Alec ?

350

d) Combien de timbres possède Véro ?

300

e) Combien de timbres possèdent Zoé et Jordi ensemble ?

250 + 150 = 400

f) Combien de timbres de moins que Léa possède Téo ?

450 - 200 = 250

g) Combien de timbres de plus que Jordi possède Véro ?

300 - 150 = 150

h) Place les noms des enfants dans l'ordre décroissant selon le nombre de timbres qu'ils possèdent.

Caro, Léa, Alec, Véro, Zoé, Téo, Jordi, Luc